

Шифр и 73

Олимпиадная работа  
участника школьного этапа Всероссийской олимпиады школьников  
по истории обучающегося 7 класса

МБОУ СОШ № 24

(наименование ОУ)

Князьбичева

Владимире Нестеровиче

(Ф.И.О. полностью)

Ст. Суворовской

2025 г.

ВСЕРОССИЙСКАЯ ОЛИМПИАДА ШКОЛЬНИКОВ ПО ИСТОРИИ

(ШКОЛЬНЫЙ ЭТАП)

7 классы

2025-2026 УЧЕБНЫЙ ГОД

Шифр 1173

**Задание 1.**

За каждый правильный ответ 1 балл. Максимальный балл за задание – 15.

**1.1. К X веку относится**

- 1) Крещение Руси  
2) призвание варягов,  
3) создание «Повести временных лет»  
4) съезд князей в Любече

**1.2. Полюдьем назывался (ась, ось)**

- 1) народное собрание у древних славян  
2) объезд великим князем подчиненных племен с целью сбора дани  
3) работа зависимых крестьян в хозяйстве феодала  
4) сбор народного ополчения для организации отпора кочевникам

**1.3. Крещение Руси привело к**

- 1) быстрому исчезновению всяких следов языческих верований  
2) подчинению княжеской власти Православной церкви  
3) превращению Руси в зависимое от Византии государство  
4) росту международного авторитета Древнерусского государства

**1.4. К числу преобразований в управлении, проведенных Владимиром I, относится**

- 1) использование своих сыновей как наместников  
2) предоставление варягам привилегий на русской службе  
3) создание старшей дружины как совета при князе  
4) усиление роли веча

**1.5. Прочтите отрывок из «Повести временных лет» и укажите, что последовало за**

**1.6. описанными событиями.**

«В тот год сказала дружина Игорю: "Отроки Свенельда изоделись оружием и одеждой, а мы наги. Пойдем князь с нами за данью, и себе добудешь, и нам". И послушал их Игорь — пошел к древлянам за данью...»

- 1) древляне обратились за помощью к хазарам  
2) дружина Игоря перебила старейшин древлян  
3) земля древлян была присоединена к Древней Руси  
4) Игорь был убит древлянами

**1.7. Софийские соборы были построены**

- 1) в Киеве  
2) в Новгороде  
3) в Полоцке  
4) во всех перечисленных выше городах

1.7. Каково было направление деятельности князя Ярослава Мудрого?

Шифр 2173

- 1) установление определенных норм сбора дани
- 2) составление первого письменного сборника законов
- 3) отправка послов в разные страны для выбора религии
- 4) борьба с Хазарским каганатом

1.8. Что означало появление в Киевской Руси вотчин и зависимых крестьян?

- 1) развитие феодальных отношений
- 2) установление рабовладельческого строя
- 3) укрепление родоплеменных отношений
- 4) усиление власти церкви

1.9. С чем была связана слабая обороноспособность русских земель в конце XI в.?

- 1) с усилением княжеских усобиц
- 2) со смертью Владимира Мономаха
- 3) с изобретением кочевниками огнестрельного оружия
- 4) с народными восстаниями в Киеве и Новгороде

1.10. Кто создал «Повесть временных лет»?

- 1) историк Геродот
- 2) митрополит Иларион
- 3) монахи Кирилл и Мефодий
- 4) монах Нестор

1.11. Как назывался узор, созданный из тысяч мельчайших припаянных шариков?

- 1) фреска
- 2) мозаика
- 3) зернь
- 4) эмаль

1.12. Что означало выражение «Пусть каждый держит отчину свою»?

- 1) прекращение междоусобиц
- 2) право князей определять вероисповедание своих подданных
- 3) прекращение совместных военных действий против половцев
- 4) начало периода феодальной раздробленности

1.13. С чем связано превращение Владимиро-Суздальского княжества в богатое и могущественное?

- 1) с удаленностью от степных кочевников на юге
- 2) с соседством с государствами Западной Европы
- 3) с покровительством со стороны киевских князей
- 4) с наличием золотых и серебряных месторождений.

1.14. В Новгородской земле, в отличие от Владимиро-Суздальской:

- 1) утвердилась монархическая форма правления
- 2) боярство владело огромными земельными угодьями
- 3) большинство населения занималось сельским хозяйством
- 4) строились оборонительные сооружения для отражения набегов кочевников

1.15. Какой памятник культуры создан в период становления централизованного государства?

- 1) Успенский собор во Владимире



- 2) Новодевичий монастырь
- 3) «Слово о законе и благодати»
- 4) Десятинная церковь в Киеве

Шифр 473

## Задание 2

Кто или что лишнее в данном ряду? Объясните, почему. Максимальный балл за задание – 6.

- А) Папа римский, патриарх, митрополит, архиепископ, епископ.

Папа римский. Потому что остальные иерархи.

- Б) Александр Невский, Андрей Боголюбский, Батый, Всеволод Большое Гнездо

Батый. Потому что остальные русские князья.

## Задание 3.

Прочитайте отрывок из произведения А.В. Петрова и определите, о каком органе власти идёт речь? Чем ведало данное учреждение?

Максимальный балл за задание – 3.

Это было совещание городских общин (концов и улиц), руководимых местными боярами, при этом посещение совещания являлось правом, а не обязанностью. Решение принималось только единогласно (путём выкрикивания и перекрикивания представителями одних концов жителей других), причём единогласно принятым считалось мнение, одобренное «решительным большинством».

Речь идёт о вече.

## Задание 4.

Составьте фразу и назовите термин. Максимальный балл за задание – 10.

- А) Время, от одного, к другому, крестьянина, разрешался, переход, землевладельца, когда.

Время, когда крестьянина разрешался переход от одного землевладельца к другому. Юрьев день.

За счет, наместников, местного, содержания, населения.

? ?

## Задание 5.

Укажите, о каком историческом деятеле идёт речь. Максимальный балл за задание – 9

- А) Историк В.О. Ключевский писал об этом человеке: «Начав княжение чуть не ребёнком, мягкий и благодушный государь, казалось, совсем не годился для боевой роли, какая ему была суждена. Не раз побитый, ограбленный и заточённый, наконец ослеплённый, он, однако, вышел из 19-летней борьбы с приобретениями, которые далеко оставили за собою всё, что заработали продолжительными усилиями его отец и дед. Когда он вступал на спорный великокняжеский стол, московская вотчина была разделена на целый десяток уделов, а когда он писал свою духовную [завещание], вся эта вотчина была в его руках...»

Речь идёт об Иване III

Б) О ком идёт речь?

Шифр 278

«Услышав, что Иван III стоит на берегу со всеми силами, пошел к Литовской земле, обходя реку Оку и поджидая к себе на помощь Казимира или его войска; проводники вели царя к реке Угре на броды. Тогда Иван III послал на Угру сына, брата и своих воевод со всеми силами. Придя, они стали на Угре и заняли броды и перевозы.

Река идёт от Ивана III.  
В) На какое конкретное историческое лицо содержится намек в отрывке из стихотворения

И. Наумова ?

Судебник новый был.  
Он резко ограничил  
Наместнический пыл.  
И войско появилось  
Стрелецкое тогда.  
И Избранная Рада-  
от имени царя  
реформы предлагала  
на благо государя.  
Нуждался царь в поддержке,  
Соборы созывал.  
Сословно- представительную  
Монархию создал.

На Ивана Грозного. 35  
Задание 6.

Установите соответствие между понятиями и их определениями. К каждому элементу первого столбца подберите соответствующий элемент из второго. Одному элементу левого столбика соответствует один элемент правого.  
Максимальный балл за задание – 12.

Понятие	Определение
1. Местничество <u>б</u>	А) Денежный сбор с крестьян при их уходе от землевладельца за неделю до и неделю после Юрьева
2. Кормление <u>2</u>	Б) Порядок назначения на государственные должности в зависимости от знатности происхождения
3. Пожилое <u>а</u>	В) Земельное владение, даваемое за военную и государственную службу, без права обмена, наследования
4. Поместье <u>г</u>	Г) Порядок содержания должностных лиц за счет местного населения

Задание 7.

Расположите следующие события XVI в. в хронологической последовательности:  
Максимальный балл за задание – 15

- 95
- 1) Взятие Казани и ликвидация Казанского ханства -4 35
  - 2) Судебник Ивана III -1 35
  - 3) Стояние на р. Угре -2
  - 4) Битва при Грюнвальде -5
  - 5) Венчание Ивана IV Грозного на царство -3 35



Шифр И 78

**Задание 8.**

Ниже приведены события, относящиеся к истории Ливонской войны, за исключением одного:  
Максимальный балл за задание – 3.

- А) оборона Пскова
- Б) победы в Ливонии
- В) битва при Лесной
- Г) взятие войсками С. Батория Полоцка


Найдите событие, выпадающее из общего ряда.

38 61

**Задание 9.** Укажите названия памятников русской архитектуры и время их постройки

Максимальный балл за задание – 16.

48 1. Золотые ворота



2.

2.

48 Софийский собор.



4.



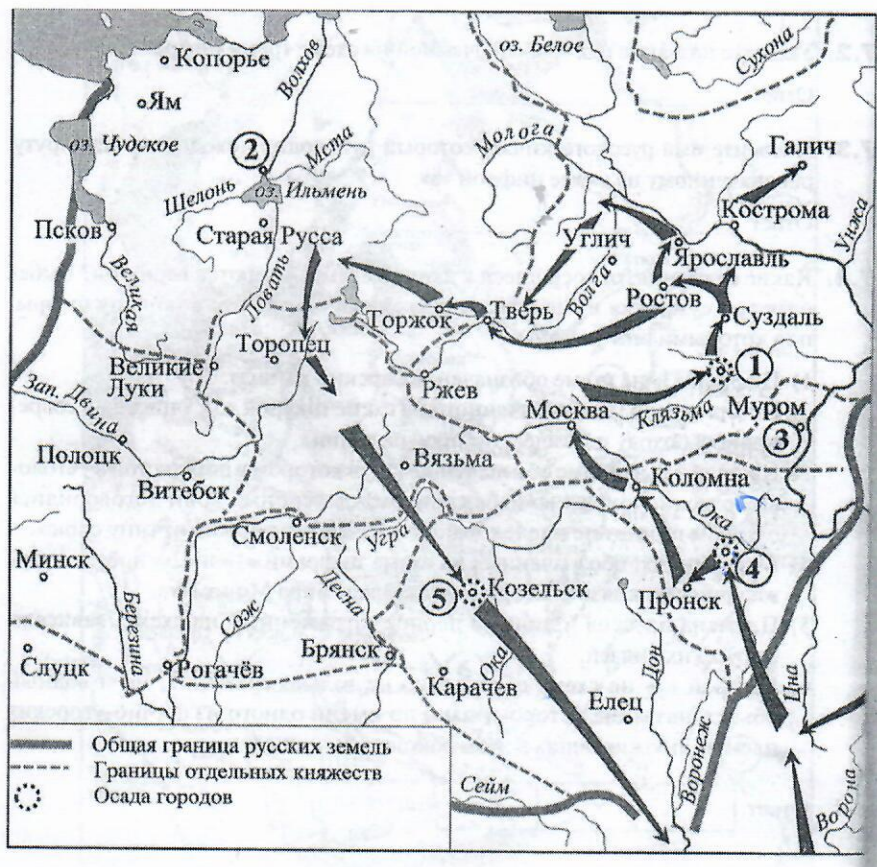
*Кремль*



Шифр 2.73

### Задание 10.

Рассмотрите схему и выполните задания. Максимальный балл за задание – 11



10.1. Напишите имя полководца, осуществившего поход, обозначенный на схеме стрелками.

Ответ: *Дмитрий 1-й*

10.2. Напишите название города, обозначенного на схеме цифрой «1».

Ответ: *Вязьма*

10.3. Напишите цифру, которой обозначена земля, где во время похода,



Шифр И 79

**Задание 8.**

Ниже приведены события, относящиеся к истории Ливонской войны, за исключением одного:  
Максимальный балл за задание – 3.


- А) оборона Пскова
- Б) победы в Ливонии
- В) битва при Лесной
- Г) взятие войсками С. Батория Полоцка

Найдите событие, выпадающее из общего ряда.

**Задание 9.** Укажите названия памятников русской архитектуры и время их постройки

Максимальный балл за задание – 16.

1. *Золотые ворота*



2.

2.

*Софийский собор.*



4.



отображённого на схеме, существовала республиканская форма правления.

10.4. Какие суждения, относящиеся к событиям, обозначенным на схеме, являются верными? Выберите три суждения из шести предложенных.

Запишите в таблицу цифры, под которыми они указаны.

- 1) Завоеватели начали вторжение в пределы Руси, захватив город, обозначенный на схеме цифрой «4».
- 2) Город, обозначенный на схеме цифрой «5», не выдержал осады более одной недели.
- 3) Поход, обозначенный на схеме стрелками, длился более пяти лет.
- 4) Боярин Евпатий Коловрат прославился своей храбростью при обороне города, обозначенного на схеме цифрой «1».
- 5) Одной из причин победы завоевателей, осуществивших поход, обозначенный на схеме, были междоусобицы русских князей.
- 6) Полководец, поход которого обозначен на схеме, создал впоследствии государство

Всего: 585

Проверили: председатели: Минаев Р. С. Маи С.  
Губоваров А. И. Плехов  
Зингуня Е. А. - Зур